

ΑΠΟΛΥΤΗΡΙΕΣ ΕΞΕΤΑΣΕΙΣ Γ' ΤΑΞΗΣ  
ΕΝΙΑΙΟΥ ΛΥΚΕΙΟΥ  
ΠΕΜΠΤΗ 6 ΙΟΥΝΙΟΥ 2002  
ΕΞΕΤΑΖΟΜΕΝΟ ΜΑΘΗΜΑ ΘΕΤΙΚΗΣ ΚΑΙ ΤΕΧΝΟΛΟΓΙΚΗΣ  
ΚΑΤΕΥΘΥΝΣΗΣ (ΚΑΙ ΤΩΝ ΔΥΟ ΚΥΚΛΩΝ): ΦΥΣΙΚΗ  
ΣΥΝΟΛΟ ΣΕΛΙΔΩΝ: ΕΞΙ (6)

**ΘΕΜΑ 1ο**

Στις ερωτήσεις **1-4** να γράψετε στο τετράδιό σας τον αριθμό της ερώτησης και δίπλα το γράμμα που αντιστοιχεί στη σωστή απάντηση.

**1.** Η ιδιοσυχνότητα ενός συστήματος που εκτελεί εξαναγκασμένη ταλάντωση χωρίς τριβή είναι 20 Hz. Το πλάτος της ταλάντωσης γίνεται μέγιστο όταν η συχνότητα του διεγέρτη είναι:

- α.** 10 Hz      **β.** 20 Hz      **γ.** 30 Hz  
**δ.** 40 Hz .

**Μονάδες 5**

**2.** Ηλεκτρικό κύκλωμα LC, αμελητέας ωμικής αντίστασης, εκτελεί ηλεκτρική ταλάντωση με περίοδο T. Αν τετρα-πλασιάσουμε τη χωρητικότητα του πυκνωτή χωρίς να μεταβάλουμε το συντελεστή αυτεπαγωγής του πηνίου, τότε η περίοδος της ηλεκτρικής ταλάντωσης θα είναι:

- α.** T/2      **β.** T      **γ.** 2T      **δ.** 4T .

**Μονάδες 5**

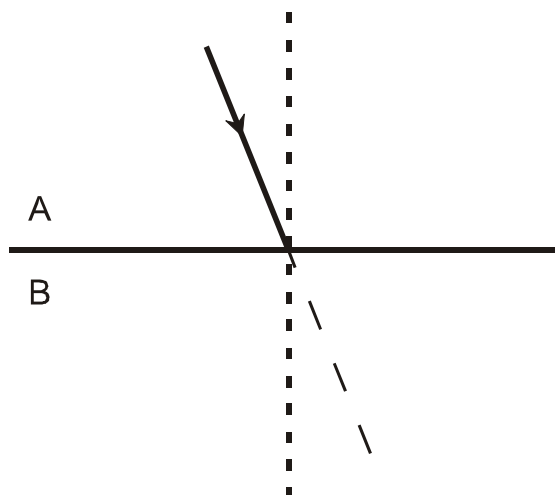
**3.** Το μήκος κύματος δύο κυμάτων που συμβάλλουν και δημιουργούν στάσιμο κύμα είναι λ. Η απόσταση μεταξύ δύο διαδοχικών δεσμών του στάσιμου κύματος θα είναι:



**ΘΕΜΑ 2ο**

**1. Ακτίνα**

μονοχρωματικού φωτός που διαδίδεται στο οπτικό μέσο Α με δείκτη διάθλασης  $n_A$  προσπίπτει με γωνία μικρότερη της κρίσιμης στη διαχωριστική επιφάνεια με άλλο διαφανές οπτικό μέσο Β με δείκτη διάθλασης  $n_B$ , όπου  $n_B < n_A$ .



**A.** Να μεταφέρετε το σχήμα στο τετράδιό σας και να σχεδιάσετε τη διαθλωμένη ακτίνα.

**Μονάδες 2**

**B.** Ποια από τις δύο γωνίες είναι μεγαλύτερη;

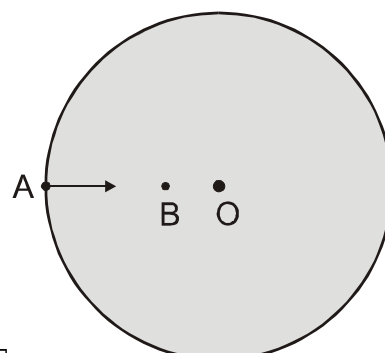
- α.** η γωνία προσπτώσεως,
- β.** η γωνία διαθλάσεως.

**Μονάδες 2**

Να αιτιολογήσετε την απάντησή σας.

**Μονάδες 5**

**2.** Δίσκος παιδικής χαράς περιστρέφεται περί κατακόρυφο άξονα κάθετο στο επίπεδό του διερχόμενο από το κέντρο του δίσκου Ο. Στο δίσκο δεν ασκείται καμία



εξωτερική δύναμη. Ένα παιδί μετακινείται από σημείο Α της περιφέρειας του δίσκου στο σημείο Β πλησιέστερα στο κέντρο του. Τότε ο δίσκος θα περιστρέφεται:

- α. πιο αργά
- β. πιο γρήγορα.

**Μονάδες 2**

Να αιτιολογήσετε την απάντησή σας.

**Μονάδες 6**

- 3.** Σφαίρα μάζας  $m$  κινούμενη με ταχύτητα μέτρου  $v_1$  συγκρούεται κεντρικά και ελαστικά με ακίνητη σφαίρα ίσης μάζας. Να βρείτε τις σχέσεις που δίνουν τις ταχύτητες των δύο σφαιρών, μετά την κρούση, με εφαρμογή των αρχών που διέπουν την ελαστική κρούση.

**Μονάδες 8**

### **ΘΕΜΑ 3ο**

Το σημείο Ο ομογενούς ελαστικής χορδής, τη χρονική στιγμή  $t = 0$ , αρχίζει να εκτελεί απλή αρμονική ταλάντωση με εξίσωση  $y = 0,05\eta\mu 8\pi t$  (SI) κάθετα στη διεύθυνση της χορδής. Το κύμα που παράγεται διαδίδεται κατά τη θετική φορά του άξονα  $x'x$ , κατά μήκος της χορδής, που διέρχεται από το σημείο Ο με ταχύτητα μέτρου  $20\text{m/s}$ .

- α.** Να βρεθεί ο χρόνος που χρειάζεται ένα υλικό σημείο του ελαστικού μέσου για να εκτελέσει μια πλήρη ταλάντωση.

**Μονάδες 6**

β. Να βρεθεί το μήκος κύματος του αρμονικού κύματος.

**Μονάδες 6**

γ. Να γραφεί η εξίσωση του ίδιου κύματος.

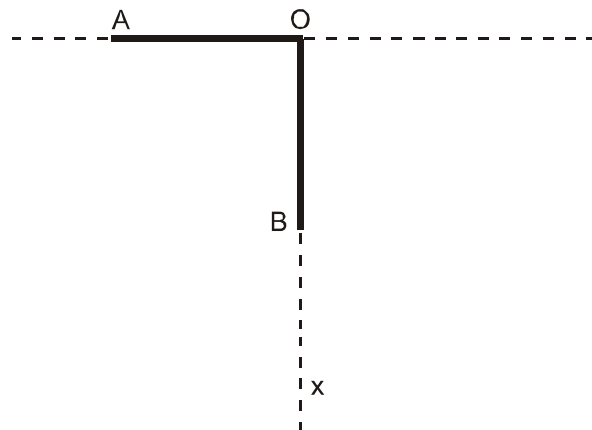
**Μονάδες 6**

δ. Να βρεθεί το μέτρο της μέγιστης ταχύτητας με την οποία ταλαντώνεται ένα σημείο της χορδής.

**Μονάδες 7**

**ΘΕΜΑ 4ο**

Δύο ίδιες, λεπτές, ισοπαχείς και ομογενείς ράβδοι OA και OB, που έχουν μάζα  $M = 4 \text{ Kg}$  και μήκος  $L = 1,5 \text{ m}$  η κάθε μία, συγκολλούνται στο ένα άκρο τους O, ώστε να σχηματίζουν ορθή γωνία. Το σύστημα των δύο ράβδων μπορεί να περιστρέφεται περί



οριζόντιο άξονα, κάθετο στο επίπεδο AOB, που διέρχεται από την κορυφή O της ορθής γωνίας. Το σύστημα αρχικά συγκρατείται στη θέση όπου η ράβδος OA είναι οριζόντια (όπως στο σχήμα). Η ροπή αδράνειας της κάθε ράβδου ως προς το κέντρο μάζας της είναι  $I_{cm} = \frac{1}{12} ML^2$ .

της είναι  $I_{cm} = \frac{1}{12} ML^2$ .

Α. Να υπολογίσετε τη ροπή αδράνειας της κάθε ράβδου ως προς τον άξονα περιστροφής που διέρχεται από το O.

**Μονάδες 6**

- Β.** Από την αρχική του θέση το σύστημα των δύο ράβδων αφήνεται ελεύθερο να περιστραφεί περί τον άξονα περιστροφής στο σημείο  $O$ , χωρίς τριβές. Να υπολογίσετε το μέτρο της γωνιακής επιτάχυνσης του συστήματος των δύο ράβδων τη στιγμή της εκκίνησης.

**Μονάδες 6**

- Γ.** Τη χρονική στιγμή κατά την οποία οι ράβδοι σχηματίζουν ίσες γωνίες με την κατακόρυφο  $Ox$ , να υπολογίσετε:

- α.** Το μέτρο της γωνιακής ταχύτητας του συστήματος των δύο ράβδων.

**Μονάδες 7**

- β.** Το μέτρο της στροφορμής της κάθε ράβδου ως προς τον άξονα περιστροφής που διέρχεται από το σημείο  $O$ .

**Μονάδες 6**

$$\begin{aligned} \text{Δίνονται: } g &= 10\text{ms}^{-2}, \eta_{45^\circ} = \text{συν}45^\circ = \frac{\sqrt{2}}{2} \\ &= 0,7. \end{aligned}$$

**ΟΔΗΓΙΕΣ (για τους εξεταζόμενους)**

1. Στο τετράδιο να γράψετε μόνο τα προκαταρκτικά (ημερομηνία, κατεύθυνση, εξεταζόμενο μάθημα). Τα θέματα δε θα τα αντιγράψετε στο τετράδιο.
2. Να γράψετε το ονοματεπώνυμό σας στο πάνω μέρος των φωτοαντιγράφων μόλις σας παραδοθούν. Καμιά άλλη σημείωση δεν επιτρέπεται να γράψετε.

Κατά την αποχώρησή σας να παραδώσετε μαζί με το τετράδιο και τα φωτοαντίγραφα, τα οποία και θα καταστραφούν μετά το πέρας της εξέτασης

3. Να απαντήσετε **στο τετράδιό σας** σε όλα τα θέματα.
4. Κάθε λύση επιστημονικά τεκμηριωμένη είναι αποδεκτή.
5. Αν κατά την ανάπτυξη των θεμάτων χρησιμοποιήσετε σχήματα, αυτά μπορούν να γίνουν και με μολύβι.
6. Διάρκεια εξέτασης: Τρεις (3) ώρες μετά τη διανομή των φωτοαντιγράφων.
7. Χρόνος δυνατής αποχώρησης: Μιάμιση (1 1/2) ώρα μετά τη διανομή των φωτοαντιγράφων.

**ΚΑΛΗ ΕΠΙΤΥΧΙΑ!**

**ΤΕΛΟΣ ΜΗΝΥΜΑΤΟΣ**